

Opgave 3 – Aarde: Klimaat en vegetatiezones in Afrika

Bestudeer de bronnen 1 en 2 uit het bronnenboekje die bij deze opgave horen.

Bij de evenaar valt in Afrika veel meer neerslag dan bij de Kreeftskeerkring en de Steenbokskeerkring.

- 2p 9 Leg het ontstaan van dit verschil in neerslag uit aan de hand van de overheersende luchtdruk bij de evenaar en de overheersende luchtdruk bij de keerkringen.
Je uitleg moet een oorzaak-gevolgrelatie bevatten.

Gebruik atlaskaart 222.

In het zuidelijk deel van Afrika valt aan de oostkust meer neerslag dan aan de westkust.

- 1p 10 Wat is de oorzaak van dit verschil?

In de Sahel, net ten zuiden van de Sahara, is de veehouderij een belangrijk bestaansmiddel.

- 2p 11 Leg uit dat de veehouderij in de Sahel bijdraagt aan verwoestijning.
Je uitleg moet een oorzaak-gevolgrelatie bevatten.

Gebruik de bronnen 1 en 2 en de atlas.

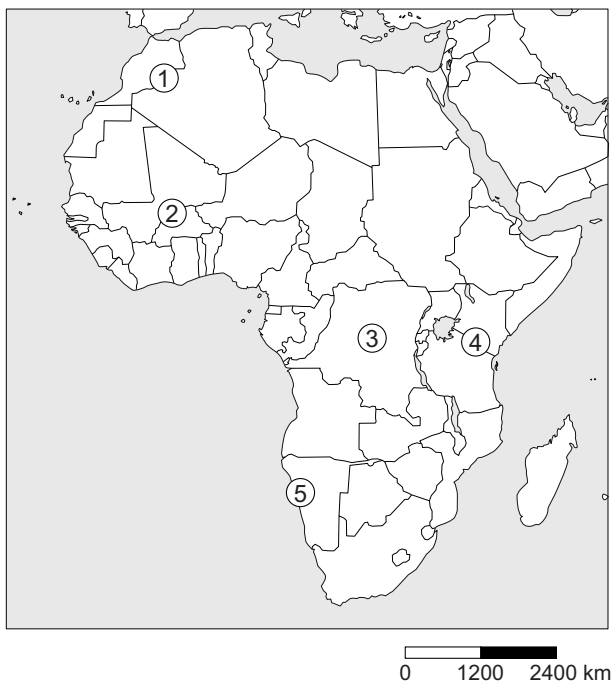
De foto's a tot en met e uit bron 2 zijn gemaakt op de vijf locaties die zijn aangegeven op de kaart in bron 1.

- 2p 12 Noteer de locaties 1 tot en met 5 op je antwoordblad.
Schrijf achter elk cijfer de letter van de juiste foto.

Opgave 3 – Aarde: Klimaat en vegetatiezones in Afrika


bron 1



Kaart van Afrika



bron 2

Vijf foto's van landschappen in Afrika





Bronvermelding

Een opsomming van de in dit examen gebruikte bronnen, zoals teksten en afbeeldingen, is te vinden in het bij dit examen behorende correctievoorschrift, dat na afloop van het examen wordt gepubliceerd.